
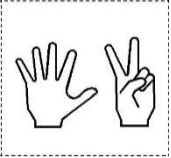


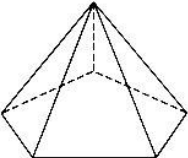



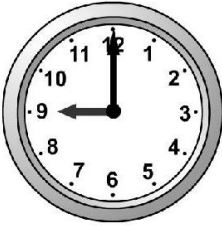


MATHATLON CP EXERCICES MEMO RELAIS

<p>1 8 + 8 = ?</p>	<p>18 Trouve le nombre manquant : 18 - 19 - ? - 21 - 22</p>	<p>4 Quel est le nombre juste après 19 ?</p>
<p>10 10 + 10 + 10 = ?</p>	<p>2 Je suis sur la case 11, je recule de 3 cases, j'arrive sur la case ?</p>	<p>15 Combien y a-t-il d'étoiles ?</p> 
<p>11 Dessine autant de ronds qu'il y a de doigts levés</p> 	<p>13 Quel est le dessin suivant ? X ou □ ou O</p> 	<p>5 J'ai 10 jetons en tout. Combien de jetons sont cachés sous le gobelet ?</p> 

MATHATLON CYCLE 3 EXERCICES MEMO RELAIS



<p>1 Combien y a-t-il de centimes dans 1€ ?</p>	<p>2 Il est 10h50. Dans combien de temps sera-t-il midi ?</p>	<p>3 Combien y a-t-il de secondes dans 1h ?</p>
<p>4 Combien ce solide a-t-il d'arêtes ?</p> 	<p>5 Quel est le périmètre de ce rectangle ?</p> 	<p>6 Parmi ces 4 opérations recopie celle qui est égale à 4800.</p> <p>48 x 10 480 x 10 48 x 1 000 4,8 x 100</p>
<p>7 4 km = ? m</p>	<p>8 Quel est le triple de 75 ?</p>	<p>9 Quel est le tiers de 270 ?</p>
<p>10 7 enfants se partagent équitablement 49 billes. Combien chacun en aura-t-il ?</p>	<p>11 Un livre coûte 20€. Je n'ai que 9€ et 50 centimes. Combien me manque-t-il ?</p>	<p>12 Complète cette suite logique : 16 - 19 - 22 - 25 - ?</p>
<p>13 Combien j'obtiens si j'ajoute 2 centaines à 1 724 ?</p>	<p>14 Ecris en chiffres Sept millions cent huit mille</p>	<p>15 Un avion part à 18h10 et arrive à 21h. combien de temps a duré le vol ?</p>
<p>16 Quel est le résultat de 436 divisé par 4 ?</p>	<p>17 375 + 625 = ?</p>	<p>18 824 - 134 = ?</p>

MATHATLON Cycle 2 EXERCICES MEMO RELAIS

<p>1 11 + 13 = ?</p>	<p>10 20 + 10 + 10 + 8 = ?</p>	<p>18 Un livre coûte 10€. Je n'ai que 5€. Combien me manque-t-il ?</p>
<p>4 3 unités + 2 dizaines = ?</p>	<p>2 Je suis sur la case 13, je recule de 5 cases, j'arrive sur la case ?</p>	<p>15 13 + ? = 20</p>
<p>11 Le double de 15 = ?</p>	<p>5 Quel est le dessin suivant ? X ou □ ou O</p> <p> x □ O x □ O x □ ?</p>	<p>3 3 enfants se partagent équitablement 9 gâteaux. Combien chacun en aura-t-il ?</p>
<p>14 34 - 20 = ?</p>	<p>6 La moitié de 100 = ?</p>	<p>13 Quel est le double de 11 ?</p>
<p>7 Quelle heure est-il ?</p> 	<p>12 J'ai 10 jetons en tout. Combien de jetons sont cachés sous le gobelet ?</p> 	<p>18 Combien y a-t-il d'étoiles ?</p> 
<p>17 Ecris en chiffres : Soixante-douze</p>	<p>9 Je suis sur la case 16, j'avance de 6 cases, j'arrive sur la case ?</p>	<p>16 Ecris en lettres : 44</p>

CORRECTION

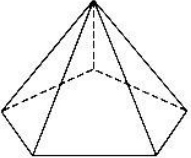

MATHATLON CP EXERCICES MEMO RELAIS

<p>1 8 + 8 = ? 16</p>	<p>18 Trouve le nombre manquant : 18 - 19 - ? - 21 - 22 20</p>	<p>4 Quel est le nombre juste après 19 ? 20</p>
<p>10 10 + 10 + 10 = ? 30</p>	<p>2 Je suis sur la case 11, je recule de 3 cases, j'arrive sur la case ? 8</p>	<p>15 Combien y a-t-il d'étoiles ? 30</p> 
<p>11 Dessine autant de ronds qu'il y a de doigts levés oooooooo</p>	<p>13 Quel est le dessin suivant ? X ou □ ou O</p> <p> x □ O x □ O x □ ?</p> <p>o</p>	<p>5 J'ai 10 jetons en tout. Combien de jetons sont cachés sous le gobelet ?</p> 

			7
---	--	--	----------

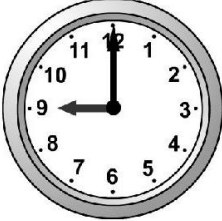


CORRECTION

MATHATLON CYCLE 3 EXERCICES MEMO RELAIS

1 Combien y a-t-il de centimes dans 1€ ? 100	2 Il est 10h50. Dans combien de temps sera-t-il midi ? 1h10	3 Combien y a-t-il de secondes dans 1h ? 3600
4 Combien ce solide a-t-il d'arêtes ?  10	5 Quel est le périmètre (mesure du contour) de ce rectangle ?  40cm	6 Parmi ces 4 opérations recopie celle qui est égale à 4800. 48 x 10 480 x 10 48 x 1 000 4,8 x 100
7 4 km = ? m 4 000m	8 Quel est le triple de 75 ? 225	9 Quel est le tiers de 270 ? 90
10 7 enfants se partagent équitablement 49 billes. Combien chacun en aura-t-il ? 7	11 Un livre coûte 20€. Je n'ai que 9€ et 50 centimes. Combien me manque-t-il ? 11€ et 50 centimes	12 Complète cette suite logique : 16 – 19 – 22 – 25 - ? 28
13 Combien j'obtiens si j'ajoute 2 centaines à 1 724 ? 1924	14 Ecris en chiffres Sept millions cent huit mille 7 108 000	15 Un avion part à 18h10 et arrive à 21h. combien de temps a duré le vol ? 2h50
16 Quel est le résultat de 436 divisé par 4 ? 109	17 $375 + 625 = ?$ 1 000	18 $824 - 134 = ?$ 690

CORRECTION

MATHATLON Cycle 2 EXERCICES MEMO RELAIS

<p>1 11 + 13 = ? 24</p>	<p>10 20 + 10 + 10 + 8 = ? 48</p>	<p>18 Un livre coûte 10€. Je n'ai que 5€. Combien me manque-t-il ? 5€</p>
<p>4 3 unités + 2 dizaines = ? 16</p>	<p>2 Je suis sur la case 13, je recule de 5 cases, j'arrive sur la case ? 8</p>	<p>15 13 + ? = 20 7</p>
<p>11 Le double de 15 = ? 30</p>	<p>5 Quel est le dessin suivant ? X ou <input type="checkbox"/> ou O</p> <p><input type="checkbox"/> X <input type="checkbox"/> <input type="checkbox"/> O <input type="checkbox"/> X <input type="checkbox"/> <input type="checkbox"/> O <input type="checkbox"/> X <input type="checkbox"/> ?</p> <p>o</p>	<p>3 3 enfants se partagent équitablement 9 gâteaux. Combien chacun en aura-t-il ? 3</p>
<p>14 34 – 20 = ? 14</p>	<p>6 La moitié de 100 = ? 50</p>	<p>13 Quel est le double de 11 ? 22</p>
<p>7 Quelle heure est-il ?</p>  <p>9h</p>	<p>12 J'ai 10 jetons en tout. Combien de jetons sont cachés sous le gobelet ?</p>  <p>7</p>	<p>18 Combien y a-t-il d'étoiles ? 70</p> 
<p>17 Ecris en chiffres : Soixante- douze 72</p>	<p>9 Je suis sur la case 16, j'avance de 6 cases, j'arrive sur la case ? 22</p>	<p>16 Ecris en lettres : 44 Quarante-quatre</p>

Feuilles de route CE1 – CE2 - CM

1	2	3	4	5	6
7	8	9	10	11	12
13	14	15	16	17	18

4	5	6	7	8	9
10	11	12	13	14	15
16	17	18	1	2	3

7	8	9	10	11	12
13	14	15	16	17	18
1	2	3	4	5	6

10	11	12	13	14	15
16	17	18	1	2	3
4	5	6	7	8	9

13	14	15	16	17	18
1	2	3	4	5	6
7	8	9	10	11	12

Feuilles de route CP (9 plots)

1	2	3
4	5	6
7	8	9

4	5	6
7	8	9
1	2	3

7	8	9
1	2	3
4	5	6

9	8	7
6	5	4
3	2	1

6	5	4
3	2	1
9	8	7

